

#ESTUDOEMCASA

BLOCO N.º 3

DISCIPLINA Matemática

ANO(S) 1º

APRENDIZAGENS ESSENCIAIS

- Números e operações;
- Reconhecer números;
- Efetuar contagens.

Título/Tema do Bloco

Localização e Orientação no Espaço

Tarefas/ Atividades/ Desafios

1. Quais são os alunos que têm uma bola na sua mão direita?



Iva



Miguel

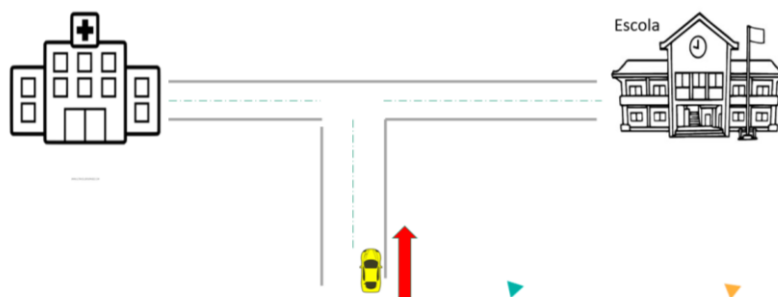


Sara




Santiago

2. O condutor do carro pretende ir para a escola. Deve virar à sua esquerda ou à sua direita?



3. Observa a imagem seguinte:



- 3.1. Identifica o aluno que está entre o professor e a aluna identificada com o número 5.
- 3.2. Qual é o aluno que está à frente do aluno identificado com o número 2?
- 3.3. Qual é o aluno que está atrás do aluno identificado com o número 3 e à frente do aluno identificado com o número 5?
- 3.4. Quais são os alunos que estão atrás do aluno identificado com o número 3?
- 3.5. Quais são os alunos que estão à frente do aluno identificado com o número 5 e atrás do aluno identificado com o número 2?

4. Qual é o cão que está fora da casota?



5. Qual é o lápis que está dentro da caixa?



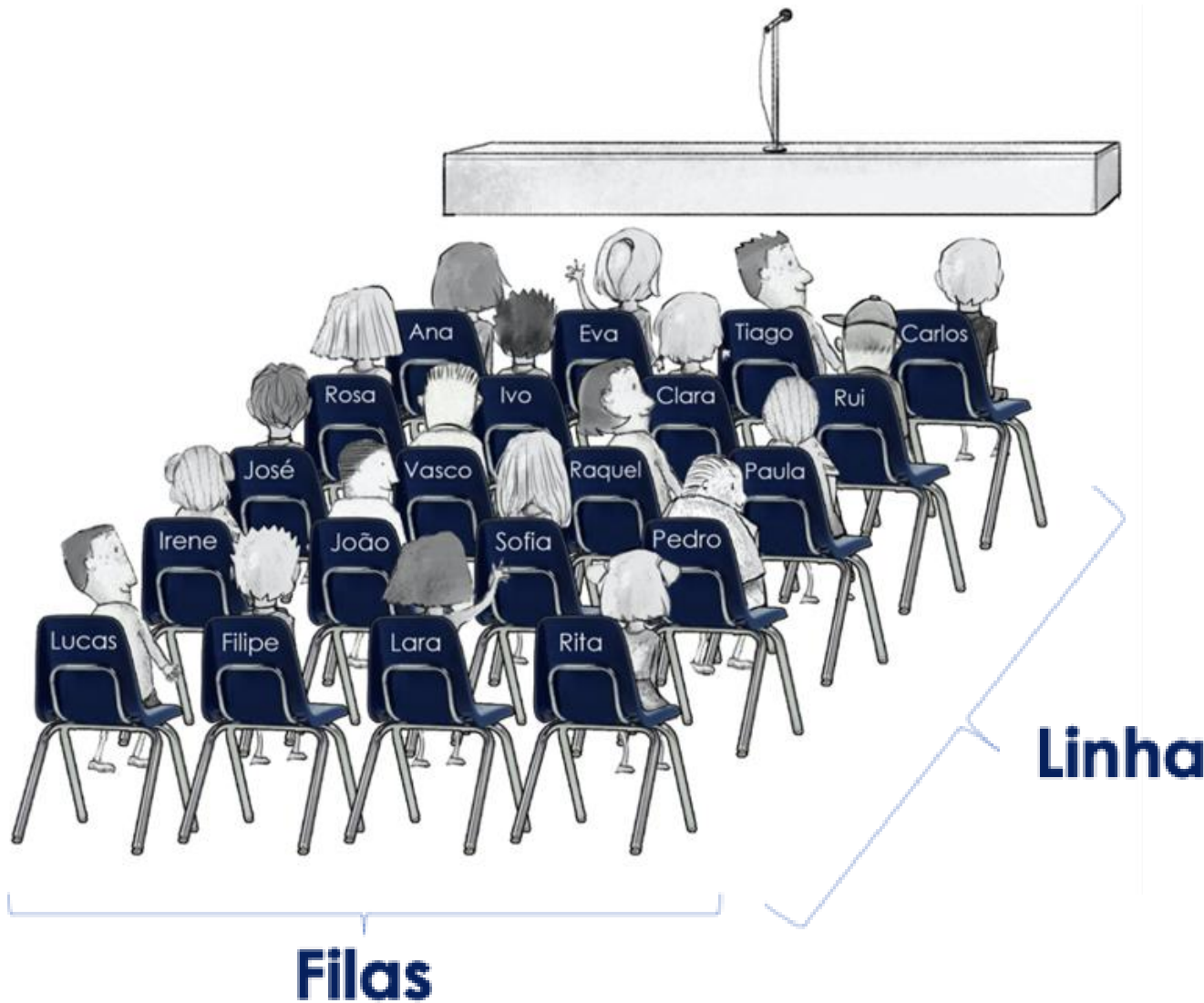
6. Qual é o objeto que está debaixo do casaco?



7. Qual é o objeto que está em cima do livro?



8.



8.1. Indica o nome dos alunos que estão:

- 8.1.1. Na linha da Rosa;
- 8.1.2. Na fila do Tiago;
- 8.1.3. À esquerda da Raquel;
- 8.1.4. À direita do Filipe.

8.2. Segue as pistas e descobre quem está:

- 8.2.1. À direita do José; à esquerda da Paula; na fila da Eva.
- 8.2.2. À esquerda da Rita; à direita do Lucas; na fila do Tiago.
- 8.2.3. Na linha da Irene; na fila do Carlos; à direita da Sofia.

9. Num jogo, o boneco João desloca-se sobre uma malha quadrangular para observar o gato:

- Desloca-se para a sua direita 1 unidade de comprimento;
- Volta-se para a sua esquerda;
- Desloca-se em frente 2 unidades de comprimento.

9.1. Desenha, com um lápis, o percurso que o João fez.

